

大野城心のふるさと館 おうちミュージアム

歴史教科書クイズ (レベル1)

心のふるさと館から、歴史に関するクイズを出します。レベル1は小学校6年生から！全問正解して歴史博士をめざそう！

[1] 縄文時代

(1) 右の写真のように、地面を掘り上げてその中に柱を立て、屋根を葺いた家のことを何と呼ぶでしょう？



画像出典:IPA「教育用画像素材集」
<https://www2.edu.ipa.go.jp/>

- ㊶ たてあなじゆうきよ 竪穴住居 ㊷ ほったてはしらたてもの 掘立柱建物 ㊸ そ せきたてもの 礎石建物

(2) 貝塚は縄文時代の《 》です。《 》に入る言葉は何でしょう？

- ㊶ 落とし穴 ㊷ ゴミ捨て場 ㊸ 広場 え 環濠

(3) 土で作られた女性をかたどった人形で、魔除けや安産、豊作などを祈るために作られたものは何でしょう？



画像出典:IPA「教育用画像素材集」
<https://www2.edu.ipa.go.jp/>

- ㊶ はにわ 埴輪 ㊷ せきぼう 石棒
㊸ どぐう 土偶 ㊹ どめん 土面

(4) 次のうち、縄文時代の遺跡から見つかった動物はどれでしょう？


- ㊶ イヌ ㊷ ネコ ㊸ ウマ ㊹ ウシ

㊶ ヒミコ


㊷ ヒサコ

㊸ ヒロコ


〔ワーク〕 弥生時代の銅鐸はむらのおまつりに使う鐘のようなもので、狩りや農作業の様子が描かれているものがあります。下の絵をみて何を描いているか考えてみましょう。



あ【 】



い【 】



う【 】

★おまけ問題★

銅鐸には、人間のほかにも身近な生き物がたくさん描かれています。右の絵はなんの生き物を描いたものでしょう。



答え【 】

〔3〕 古墳時代

(1) 古墳の種類の一つ、前方後円墳は誰の墓だと考えられているのでしょうか？

㊶ 農民

㊷ 豪族

㊸ 狩人

(2) 古墳のまわりに並べられたものを1つ○で囲みましょう。

㊶ 石器

㊷ 大仏

㊸ 埴輪

え 銅鐸

(3) 大和朝廷(大和王権)の中心人物は何と呼ばれたのでしょうか？

あ 聖武天皇

い 卑弥呼

う 大王

(4) 大仙古墳(仁徳天皇陵)について、正しいもの一つに○をつけましょう。

- () 大仙古墳は、今の奈良県にある。
- () 日本で一番大きな前方後円墳である。
- () 古墳は少人数で短い期間でつくった。

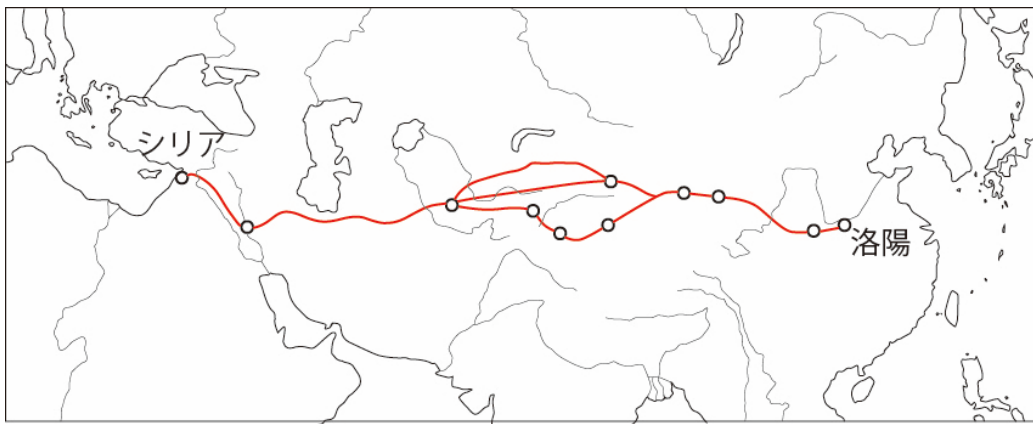
[4] 古代

(1) 奈良時代の日本の都は次のうちどれでしょう？

- ㊶ 長安城
- ㊷ 藤原京
- ㊸ 平城京



(2) 中国と西アジア・ヨーロッパを結ぶ、交易の道のことを何と呼ぶでしょう？



- ㊶ シルクロード
- ㊷ ガラスロード
- ㊸ カントリーロード

(3) 奈良の東大寺には聖武天皇の持ち物も収められていた校倉造の倉庫があります。その倉庫の名前はなんでしょう？

- ㊶ 正倉院
- ㊷ 三千院
- ㊸ 鬼龍院